

一、圈出正確的答案。

① 香港主要流通的紙幣共有多少種？

- A. 5 種 B. 6 種 C. 7 種 D. 8 種

② 哪種貨幣同時有硬幣和紙幣在香港流通？

- A. 10 元 B. 20 元 C. 50 元 D. 100 元

③ 在香港的流通貨幣中，幣值比 100 元大的紙幣有多少種？

- A. 2 種 B. 3 種 C. 4 種 D. 6 種



④ 爸爸有幣值最高和最低的紙幣各一張，它們共值多少元？



- A. 1100 元 B. 1020 元 C. 1010 元 D. 1050 元



⑤ 美兒有三張幣值不同的紙幣，剛好足夠購買一對高跟鞋。這個手袋的售價最高可能是多少元？



- A. 3000 元 B. 2600 元 C. 1600 元 D. 1550 元

二、把答案填在 () 內。

① 1 張  可換得 () 張  。

② 1 張  可換得 () 張  。

③ 2 張  可換得 () 張  。

④ () 張  可換得 4 張  。

⑤  可換得 3 張  和 () 張  。

⑥ 詠兒有三張不同幣值的紙幣，其中沒有 ，她最多有 () 元，最少有 () 元。



⑦ 美珊的錢包有   ，她想買一個 \$245 的手袋，尚欠 () 元？

三、下圖是小明有的貨幣，把答案寫在 () 內。



① 小明 共有 () 張紙幣和 () 個硬幣。

② 小明 共有 () 元 () 角。

③ 小明 把  換成  後，他現共有 () 張

