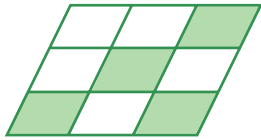


一. 在括號內寫出各圖中着色部分佔全圖的幾分之幾。

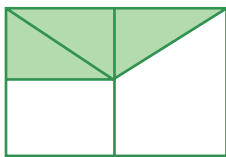
①



寫作：(            )

讀作：(            )

②



寫作：(            )

讀作：(            )

二. 比較下列各組分數，在括號內填寫「>」或「<」。

①  $\frac{4}{9}$  (    )  $\frac{5}{9}$

②  $\frac{4}{5}$  (    )  $\frac{4}{9}$

③ 1 (    )  $\frac{8}{9}$

④  $\frac{1}{2}$  (    )  $\frac{1}{3}$  (    )  $\frac{1}{4}$

三. 把答案填在括號內。

① 16 的  $\frac{3}{4}$  是 (            )。

② 24 的  $\frac{(\quad)}{8}$  是 9。


③ 15 的  $\frac{2}{3}$  是 (            )。

四．把適當的容量單位或答案填在括號內。

- ① 浴缸的容量是 40 (            )
- ② 針筒的容量是 20 (            )
- ③ 杯子的容量是 400 (            )
- ④ 洗衣機的容量是 11 (            )
- ⑤ 4 升 8 毫升 = (            ) 毫升
- ⑥ 2L15 mL = (            ) mL
- ⑦  $\frac{3}{4}$  L = (            ) mL

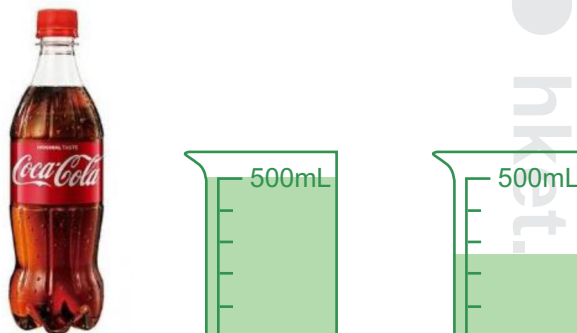
五．以下容器注滿水，然後全部倒進量杯，在括號內寫上各容器的容量。

①



杯子的容量是 (            ) mL。

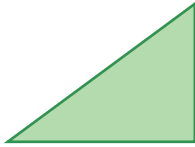
②



可樂的容量是 (            ) mL。

六. 把答案填在括號內。

①



圖中的三角形是一個 ( ) 三角形。

它有 ( ) 個銳角和 ( ) 個直角。

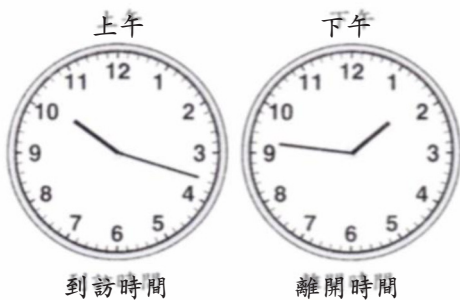
②



數字鐘顯示的時間是：( ) 午 ( ) 時 ( ) 分。

③ 跳舞課程每堂 2 小時，並於 4:15 p.m. 結束。

跳舞課程的開始時間是 ( ) 午 ( ) 時 ( ) 分。



④ 以上是媽媽到訪和離開學校的時間，用「24 小時報時制」填寫到訪記錄。

到訪時間：( )

離開時間：( )

七. 計算下列各題。把答案填在括號內。

①  $318 - 500 + 400 = ( )$

②  $58 + (109 - 77) = ( )$

③  $300 - (201 + 93) = ( )$

④  $139 + 32 \times 5 = ( )$

⑤  $9 \times (529 + 370) = ( )$

⑥  $193 + 7 \times 452 = ( )$

⑦  $(67 + 148) \times 9 = ( )$

⑧ 8 元 9 角  $\times$  6 + 43 元 7 角 = ( )

八. 應用題

① 雜貨店把 6 箱雞蛋全部售出，共得 186 元。每箱雞蛋的售價是多少元？

② 單車徑長 7800 米，哥哥踏單車完成了 5203 米，餘下的路程比已完成的短多少米？

③ 每袋米重 7 公斤，每袋麵粉重 4 公斤。八袋米和一袋麵粉共重多少公斤？

④ 玩具店推出優惠，凡購物滿 400 元，即可減 20 元。美兒付 400 元買了一個 402 元的玩具熊，應找回多少元？

