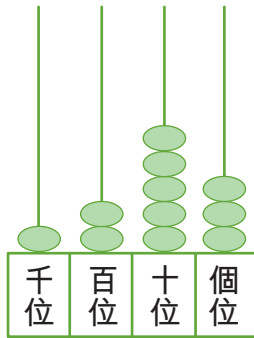


一. 把答案填在 () 內。

① 看算柱，回答以下各題。

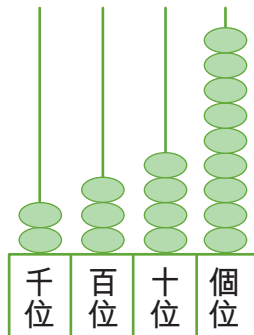


(a) 左圖中，算柱所表示的數是 ()，
讀作 ()。

(b) 在這個數中，1 在千位，表示 ()，
2 在百位，表示 ()，
5 在十位，表示 ()，
3 在個位，表示 ()。

(c) $1253 = () + () + () + ()$

②



左圖中，算柱所表示的數是 ()。
(用阿拉伯數字)。

③ 用中國數字寫出「6401」這個數。()

④ 用中國數字寫出「7083」這個數。()

填寫「>」或「<」。

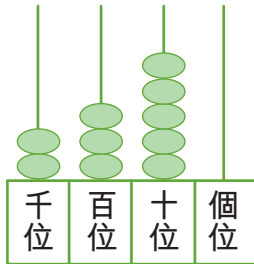
⑤ $890 () 1087$

⑥ $5201 () 4944$

⑦ $9632 () 9980$

⑧ $4850 () 4834$

⑨ () 2389



依指示把以下各數排列起來。

⑩ 5427, 4572, 4725

最大 () , () , () 最小

⑪ 6031, 6130, 6301

最大 () , () , () 最小

二. 選擇正確答案，並在○塗黑。

①

6	1	3	9
---	---	---	---

利用上面的數字卡組成最大的四位偶數是

A. 9631 B. 9316 C. 9613 D. 1936

② 以下哪個數的千位數字是 7，百位數字是 2？

A. 7020 B. 2272 C. 7205 D. 2730

③ 在 3169 這個數中，哪個數字表示的數值最大？

A. 「3」 B. 「1」 C. 「6」 D. 「9」

④ 以下哪個數是比 3000 大，但比 5000 小的奇數？

A. 2049 B. 3991 C. 4330 D. 6549

⑤ 從 3、5、0、1 和 9 中，選出四個數，並排出最小的四位偶數是多少？

A. 1390 B. 1039 C. 1035 D. 1350

