


數學 - 三角形

三角形一共有_____種

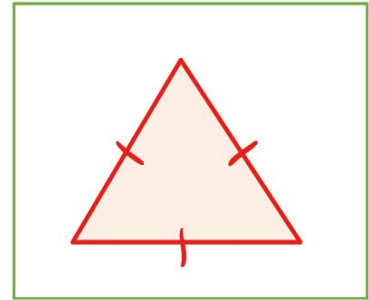
1) 等腰三角形

- 兩條邊長度相等
- 兩隻底角相同



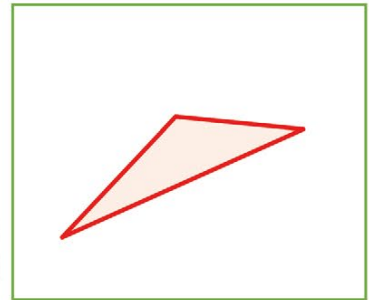
2) 等邊三角形

- 三條邊長度相等
- 三隻是相同的銳角



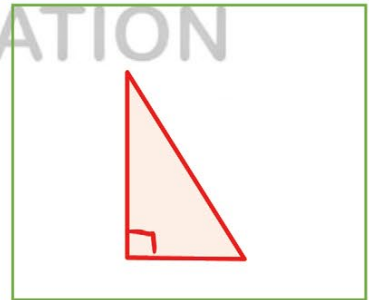
3) 不等邊三角形

- 三條邊長度不相等



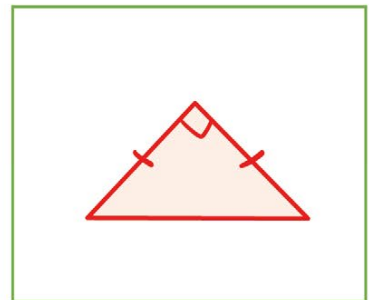
4) 直角三角形

- 有直角



5) 等腰直角三角形

- 兩條邊長度相等
- 夾角是直角



FUNG WING EDUCATION



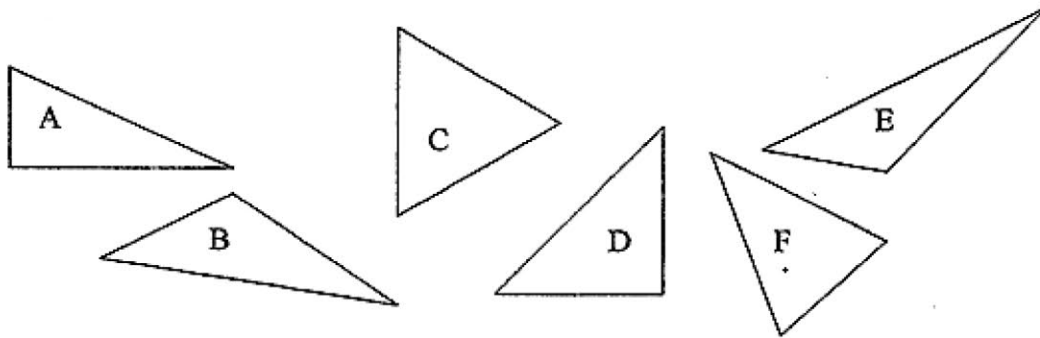
林峰老師



三角形重溫

筆記：

1.

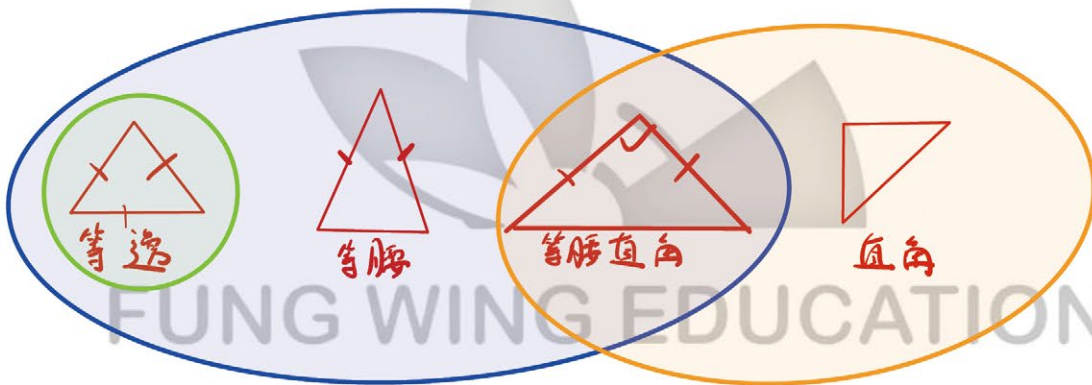


把適當的英文字母填在橫線上。

(a) 哪一個是等腰三角形？

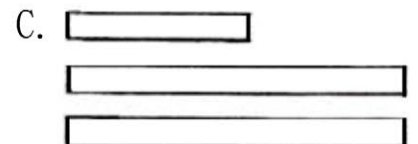

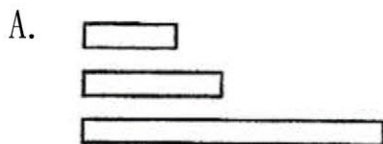
(b) 哪一個是等邊三角形？

(c) 哪一個是等腰直角三角形？



2.

以下哪紙條不能做出一個三角形？



筆記：

三角形最短的兩條邊長度之和必須_____最長邊的長度



林峰老師