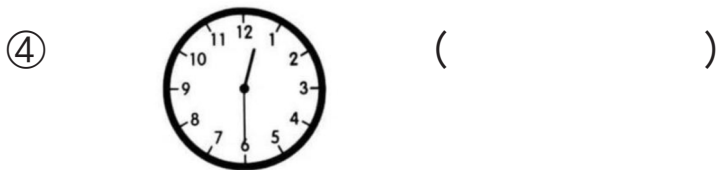

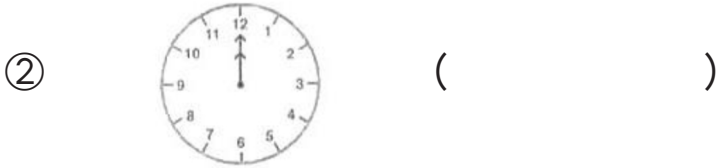


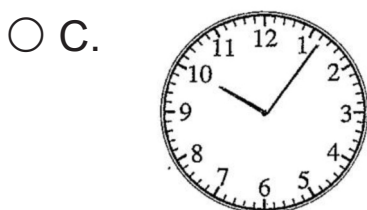
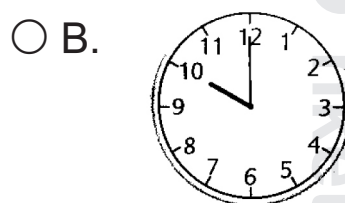
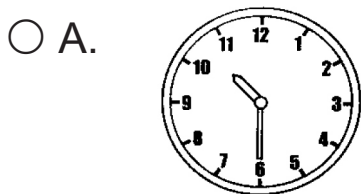


一、寫出鐘面顯示的時間。



二、選擇正確答案，並在○塗黑。

① 以下哪一個鐘面顯示的時間是十時多些？



② 以下鐘面顯示的時間是：



A. 差一些八時

B. 八時多些

C. 差一些八時半

D. 差一些九時

③ 以下是媽媽完成家務的時間，她可能在甚麼時間開始做家務？



A. 4 時

B. 5 時半

C. 6 時半

D. 7 時

④ 話劇表演進行 2 小時後，在以下的時鐘顯示時間結束，話劇表演在甚麼時間開始？



A. 4 時

B. 6 時

C. 8 時

D. 10 時

⑤ 以下是妹妹晚上睡覺的時間。她睡了 9 小時，她起床的時間是甚麼？



A. 11 時

B. 6 時

C. 8 時

D. 2 時

三、回答下列問題，把答案填在 () 內或圈出答案。

① 右邊的時鐘是小文開始做功課的時間。



(a) 小文在 () 時開始做做功課。

(b) 小文做功課用了 2 小時，他在 () 時完成功課。

(c) 小美用了 1 時間做功課，(小文 / 小美) 較快完成功課。

(把答案圈起來)

② 以下兩個鐘面顯示演唱會開始和結束時間。

開始時間



結束時間



(a) 演唱會時間共 () 小時。

(b) 現在是 8 時，演唱會還有 () 小時才結束。

(c) 演唱會結束後，家怡用了 1 小時回到家，當時的時間可能是

(8 時 / 9 時 / 10 時 / 11 時) 。 (把答案圈起來)

