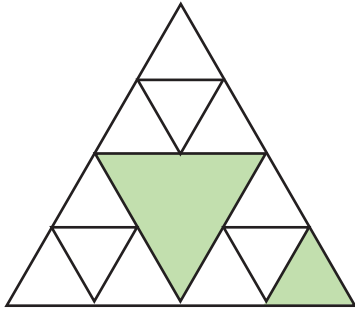


③ 下圖中的陰影部分佔全圖的幾分之幾？



A. $\frac{2}{13}$

B. $\frac{1}{4}$

C. $\frac{3}{16}$

D. $\frac{5}{16}$

四. 把答案填在 () 內。

① $\frac{3}{3} = ()$

② $\frac{7}{()} = 1$

③ $\frac{()}{9} = 1 = \frac{13}{()}$

④ $\frac{()}{30} = \frac{8}{()} = 1$

⑤ 12 的 $\frac{5}{6}$ 是 ()

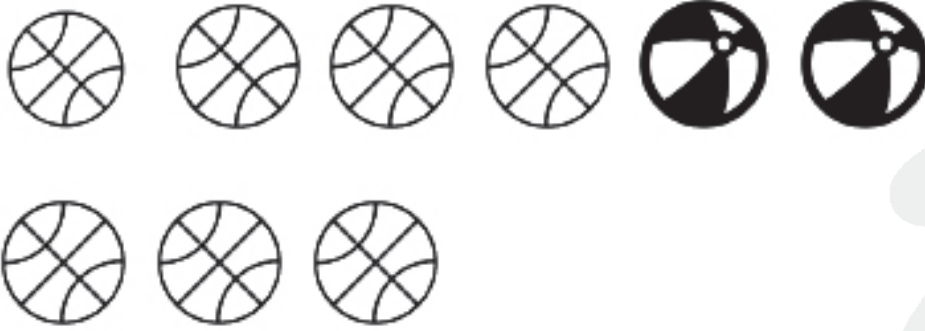
⑥ 12 的 $\frac{()}{6}$ 是 6

⑦ 9 的 $\frac{()}{3}$ 是 6

⑧ 21 的 $\frac{4}{7} = ()$


⑨ 有雞蛋一打，用去全部雞蛋的 $\frac{5}{6}$ ，還餘雞蛋（ ）隻。

⑩



a) 圖中共有球（ ）個。

b) 有 （ ）個，佔全部的（ ）。

c) 有 （ ）個，佔全部的（ ）。

