
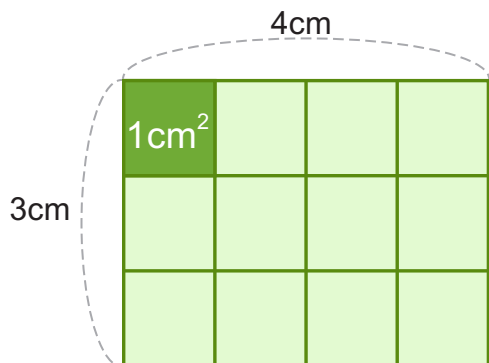


① 以下小朋友都用了鐵線做出一個正方形或長方形，其中 3 人是用了相同長度的鐵線，只有 1 人所用的鐵線長度是不一樣的，請找出並寫下他的名字。



答案：_____

② 參閱下圖，並於橫線上填上適當的答案。

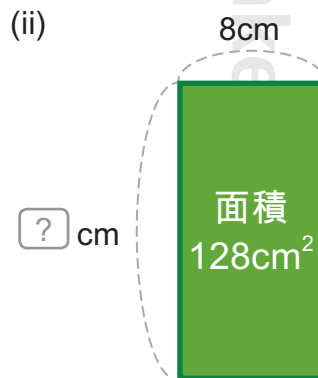
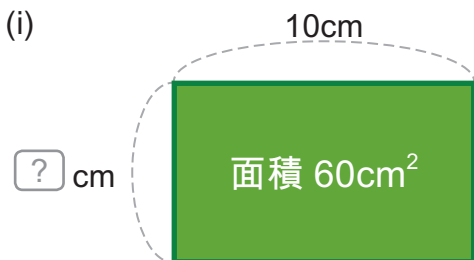


(i) 每一個小正方形是 1 cm^2 ，每行有 _____ 個小正方形。

(ii) 三行共有 _____ $\times 3 =$ _____ 小正方形

(iii) 所以長方形面積 = _____ \times _____ = _____ cm^2

③ 請找出以下長方形的闊度。

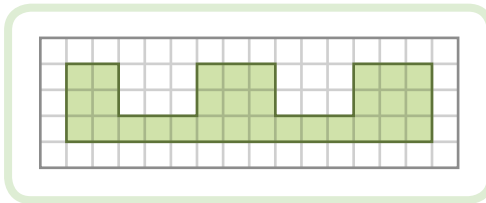


(i) 答案： cm

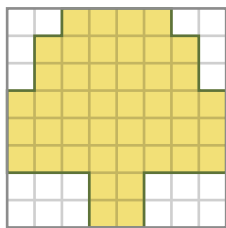
(ii) 答案： cm

④ 找出哪一個選項著色部分的面積，與例圖著色部分的面積是一樣的，在○內填上顏色。

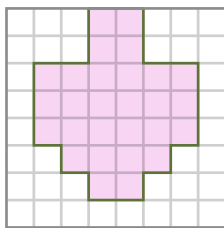
例圖



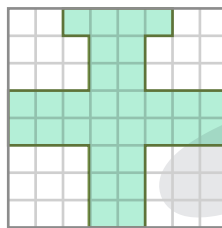
(a)



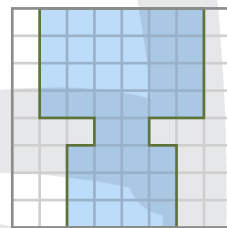
(b)




(c)



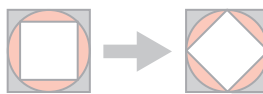
(d)



⑤ 請計算出大正方形比小正方形的面積多幾倍。



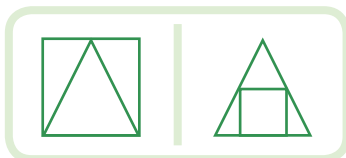
提示：請旋轉小的正方形



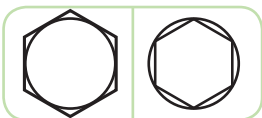
答案：_____

⑥ 以下哪一組圖形是不符合例圖中的規律？在○內填上顏色。

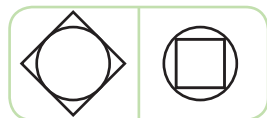
例圖



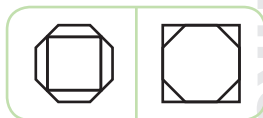
(a)



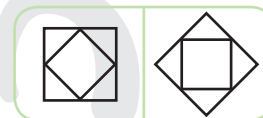
(b)



(c)



(d)



⑦ 以下的數字卡最多可組合多少個不同的雙位數。



答案：_____

