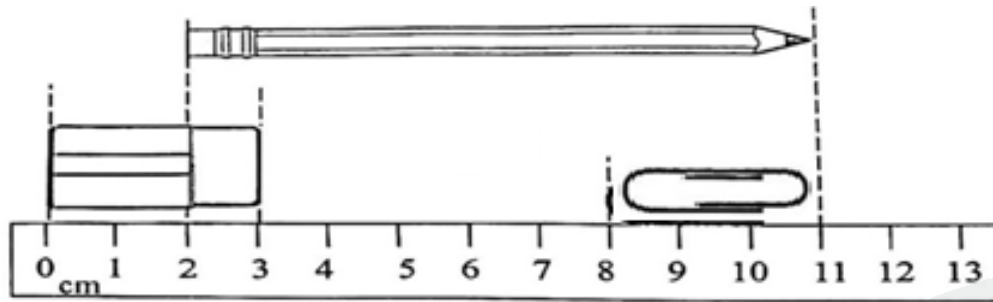
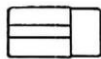





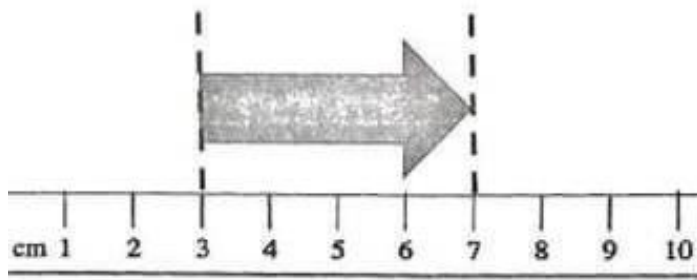
一、看圖回答下列各題。

①



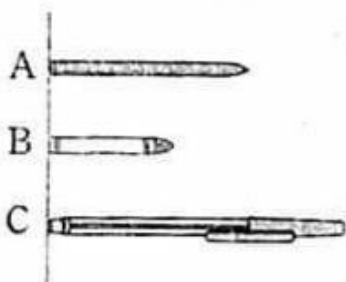
- (a)  的長度是 \_\_\_\_\_ 厘米。
- (b)  的長度是 \_\_\_\_\_ 厘米。
- (c)  的長度約是 \_\_\_\_\_ 個  。

②






 的長度是 \_\_\_\_\_ 厘米。


③ 比較下圖各筆的長度，把它們由短至長排列出來。




(最短) \_\_\_\_\_ 、 \_\_\_\_\_ 、 \_\_\_\_\_ (最長)

④ 美美  的長 1cm， 長 20cm。



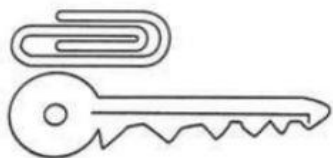
計算機長約 \_\_\_\_\_ 個 ，即長約 \_\_\_\_\_ cm。



桌子與垃圾桶之間相距約 \_\_\_\_\_ 個 ，即長約 \_\_\_\_\_ cm。

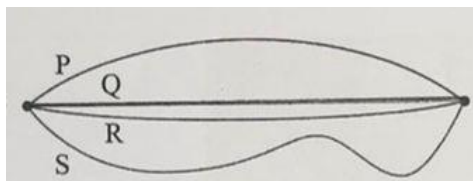
二. 選擇正確答案，並在○塗黑。

① 每個  長 3cm，下圖的鎖匙約長多少 cm？



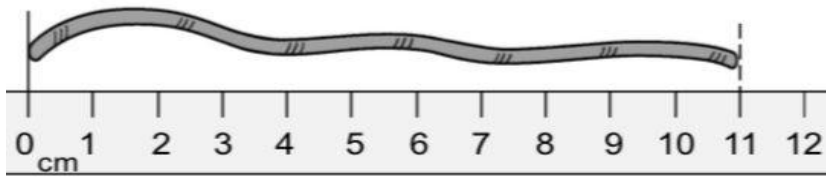
- A. 3cm     B. 6cm     C. 8cm     D. 10cm

② 根據下圖，哪一條路線最短？




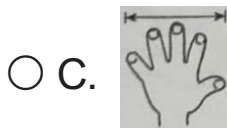
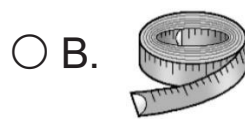
- A. P 路線     B. Q 路線     C. R 路線     D. S 路線

③ 下圖的繩子長度是多少？



- A. 10 厘米    ○ B. 11 厘米    ○ C. 比11 厘米短    ○ D. 比11 厘米長

④ 以下哪一項最適合量度自己的腰圍？



⑤ 以下哪一項最適合量度兩門之間的距離？

