

一. 選擇正確答案，在○內塗黑。

① 以下哪一項不是線段？



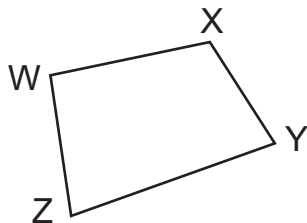
② 下圖線段 XY 若長 20cm，曲線可能長多少？

○ A. 16cm ○ B. 19cm ○ C. 20cm ○ D. 26cm

③ 以下哪一項描述是正確的？（答案可多於一個）

○ A. 四邊形有 2 個直角 ○ B. 四邊形有兩對鄰邊
○ C. 四邊形有兩對對邊 ○ D. 四邊形有 4 個角


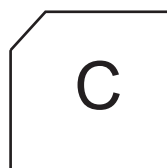

④ 下圖的四邊形中，哪一條邊是 WZ 的對邊？



○ A. XY ○ B. ZY
○ C. WX ○ D. WZ

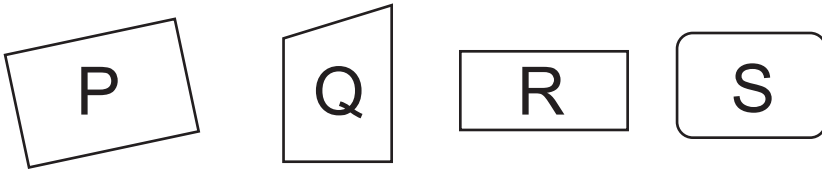
二. 選擇正確答案，並在○塗黑。

① 下圖中有哪些是正方形？



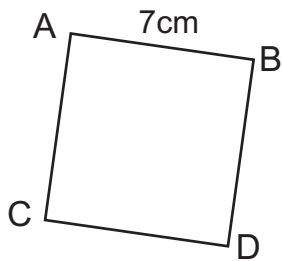
正方形：_____

② 下圖中有哪些是長方形？



長方形：_____

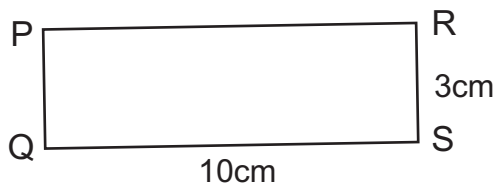
③ 下圖是一個正方形。



(a) AC 長 _____ cm。

(b) 正方形有 _____ 個直角。

④ 下圖 PQRS 是一個長方形。



(a) PR 的鄰邊是 _____ 和 _____，RS 的對邊是 _____。

(b) 不用厘米尺量度，PQ 長 _____ cm，PR 長 _____ cm。

(c) 長方形的（四邊 / 對邊 *）長度相等。* 圈出答案

(d) 上圖有 _____ 個直角。

