

一. 計算下列各題。

例： $5 + 7 = 12$

①  $6 + 4 =$  \_\_\_\_\_


②  $15 - 15 =$  \_\_\_\_\_

③  $8 + 7 =$  \_\_\_\_\_

④  $17 - 7 =$  \_\_\_\_\_

⑤  $18 +$  \_\_\_\_\_  $= 8 + 18$

二. 數一數下列各動物的數量。



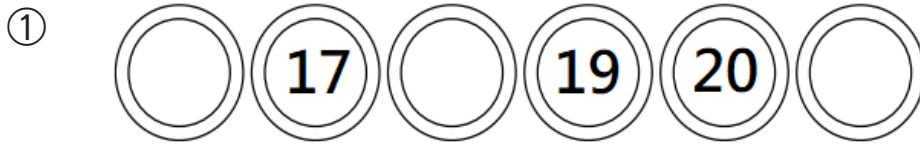
①  有 \_\_\_\_\_ 隻。

②  有 \_\_\_\_\_ 隻。

③  有 \_\_\_\_\_ 隻。

④  比  多 \_\_\_\_\_ 隻。

三．依規律，填上適當的數，並圈出規律。




這是（順數 / 倒數）。

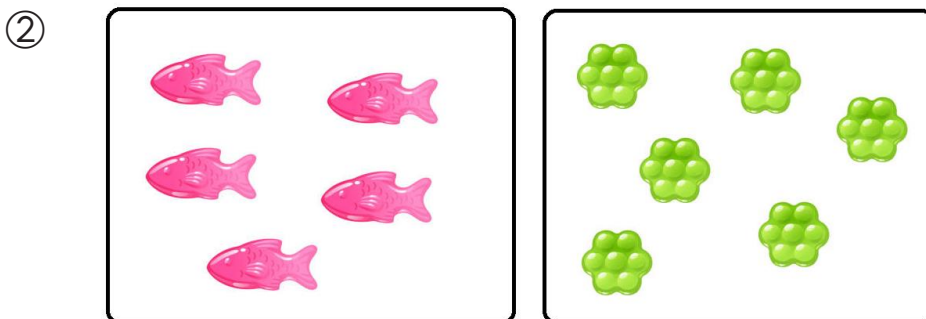


這是（順數 / 倒數）。

四．依題意，寫出算式及答案。



$$\square \bigcirc \square = \square$$



$$\square \bigcirc \square = \square$$

