



一. 比較以下物件，圈出及填上答案。




①  比  (多 / 少) \_\_\_\_\_ 個。

②  比  (多 / 少) \_\_\_\_\_ 個。


二. 依規律填一填，然後把答案圈起來。

① 

這是 ( 順數 / 倒數 ) 。




② 

這是 ( 順數 / 倒數 ) 。

③ 

這是 ( 順數 / 倒數 ) 。

三. 列式計算下列向應用題。

① 媽媽買了  11 個，弟弟吃了  3 個，還有  多少個？

$$\begin{aligned} & \underline{\hspace{2cm}} \\ = & \underline{\hspace{2cm}} \end{aligned}$$

還有   個。

② 體育室有  18 個， 7 個， 比  多幾個？

$$\begin{aligned} & \underline{\hspace{2cm}} \\ = & \underline{\hspace{2cm}} \end{aligned}$$

 比  多  個。

③ 一仁班有  5 隻，一信班有  9 隻，兩班共有  多少隻？

$$\begin{aligned} & \underline{\hspace{2cm}} \\ = & \underline{\hspace{2cm}} \end{aligned}$$

兩班共有   隻。

