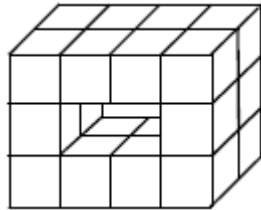


短答題

- ① 下圖的立體由邊長2cm的正方體組成，立體的體積是多少 cm^3 ？




- ② 一瓶 $\frac{7}{8}$ 升的梳打水可做雜果賓治4杯，平均每杯雜果賓治要梳打水多少mL？

- ③ 3.14 、 $\frac{22}{7}$ 、 $3\frac{14}{99}$ ，哪兩個數值最接近？

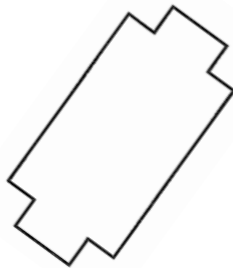
- ④ $1250\text{mm} + 5000\text{cm} + 0.5\text{m} = ? \text{ km}$

- ⑤ 下列哪個圖形有最多的對稱軸？

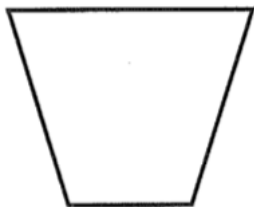
A.




B.



C.



D.



① _____

② _____

③ _____

④ _____

⑤ _____

應用題

① 木板邊長2.2米，闊1.5米，若每平方米價值90元，這塊木板價值多少元？

② 小宜每天有零用錢25元，小麗每月有零用錢775元。今年是閏年在一月至六月期間，小宜共花了852元，而小麗則花了1110元，他們餘下的錢誰較多，相差多少？

③ 約翰比彼得多\$20。已知他們共有\$240，彼得有多少錢？（設方程作答）

