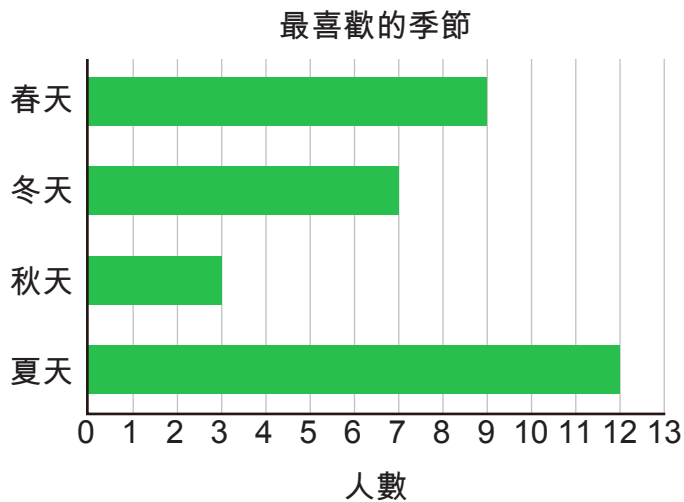


① 以下為 4A 班學生選擇最喜歡季節的結果，最少人選的是哪一個季節？




- A. 春天
- B. 冬天
- C. 秋天
- D. 夏天

② 小倫的學校有回收活動，學生們每帶 5 公斤環保物料回學校，就送他們 3 張電影票，如果小倫帶了 21kg 的環保物料回學校，她可獲得電影票共多少張？



答案：\_\_\_\_\_

③ 請找出 A 的數值。




答案：\_\_\_\_\_

④ 小嘉、小妮、小琪和小娜正在賽跑，閱讀下述的句子，然後在框內填上正確的名字。

小嘉跑在小娜前，但在小妮後面。  
如果不是小琪的話，小妮就會排第一。



⑤ 現有一個盛水容器和兩個分別 5L 及 12L 的水杯，請找方法量度出 2L 的水。



- (i) 先將 \_\_\_\_\_ L 的水杯裝滿水。
- (ii) 然後將 12L 水杯內的水裝進 \_\_\_\_\_ L 的水杯。
- (iii) 將 \_\_\_\_\_ L 水杯的水倒掉。
- (iv) 最後將 12L 水杯內餘下的水，裝進 \_\_\_\_\_ L 的水杯內，\_\_\_\_\_ L 的水就能量度出來。

⑥ 小天射了 5 枝箭，全部箭都射在 5、3 或 2 的圈內，請寫出他可能得到的所有分數。



答案：\_\_\_\_\_，\_\_\_\_\_，\_\_\_\_\_，  
\_\_\_\_\_，\_\_\_\_\_，\_\_\_\_\_

\* 答案請掃描 QR code。

\* 版權歸 TOPick 及 Eye Level 所有。  
I am the key.

