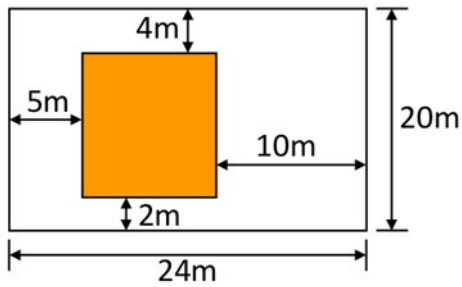
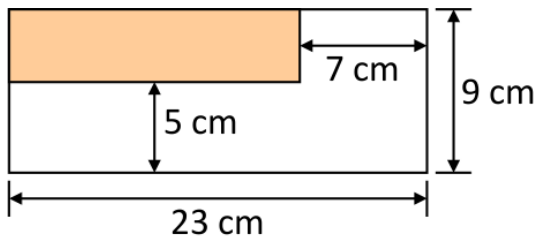


1. 求陰影部份的周界。



列式計算: \_\_\_\_\_

2. 求陰影部份的周界。

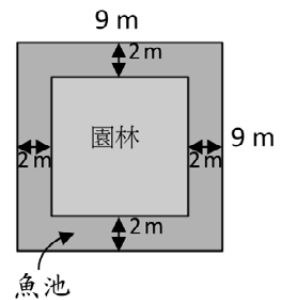


列式計算: \_\_\_\_\_

3. 右圖是一個正方形園林，東主在園林四邊的外圍圍了魚池。

這個園林的周界是多少m？

列式計算: \_\_\_\_\_



葉卓軒老師

