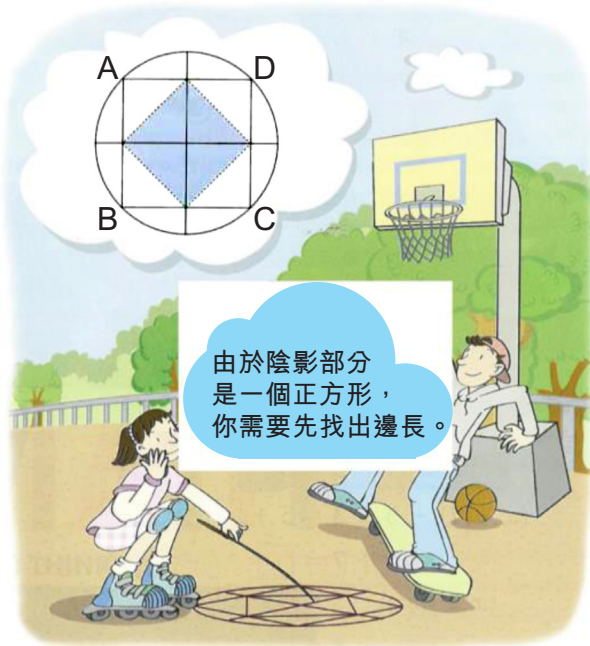


①下圖中圓形的半徑是 5cm，正方形 ABCD 在圓形內，其中的一部分被填上了顏色，你可以找到有關陰影部分的面積嗎？



① _____

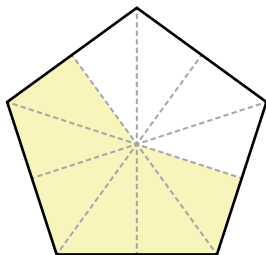
②正方形農地的周界是 20 米，農地的面積是多少？



② _____

③分別寫出各陰影部分所代表的分數和小數。


(a)



分數：_____

小數：_____


(b)



分數：_____

小數：_____

④沿著兩個數的公因數，找出通往最大公因數的路。



應用題

⑤列車上男人的人數是女人人數的 $2\frac{3}{4}$ 倍再多 26 個，列車上有男人 147 個，女人有多少個？試列式計算。

.....

.....

.....

.....

.....

.....

.....

.....

.....

.....

⑥獅子每分鐘跑 524 米，如果獅子以同樣速度跑了一小時，牠共跑了多少米？

.....

.....

.....

.....

.....

.....

.....

.....

.....

.....

* 答案請掃描 QR code。

* 版權歸 TOPick 及 Eye Level 所有。
I am the key.

