

短答題

① $72.19 + 6.48 + 27.81 - 1.38 - 5.48 - 0.62$

① _____

② $5.6 \times 16.5 \div 0.7 \div 1.1$

② _____

③ 期末考試中，21 女同學的平均成績是 82 分，男同學的平均成績是 87 分，全班共 40 人，全體同學的平均成績是多少？
(取小數後一個位)

③ _____

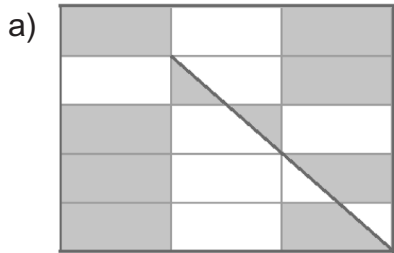
④ 6B 班女同學的人數比男同學多 50%，女同學的平均身高是 160 厘米，男同學的平均身高是 154 厘米，全班同學的平均身高是多少厘米？

④ _____

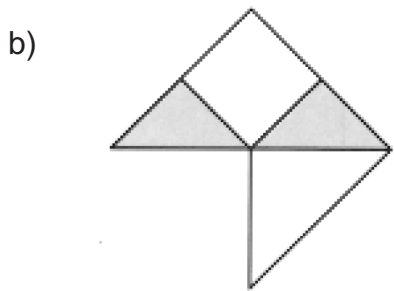
⑤ 哪一個立體圖形的面數比棱數少了 10 ？

⑤ _____

⑥ 用百分數表示下圖中陰影所佔的部份。

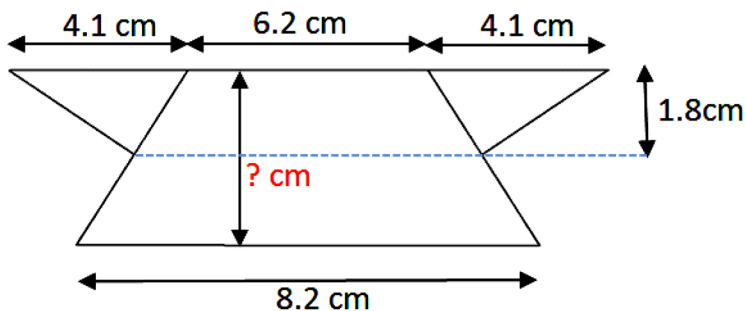


⑥ a) _____



b) _____

⑦ 下圖面積為 45.54 cm^2 ，求下圖梯形的高。



⑦ _____

應用題

- ⑧一個標準籃球場長 28 米，闊 15 米。上星期多區路面共有 386 400 塊磚塊被挖起，可鋪成 11.5 個籃球場，問每塊磚頭的面積是多少？（取至最接近的平方厘米）

- ⑨有 1000 人報考入學考試，錄取了其中 150 人，錄取者的平均成績比未被錄取的人平均成績多 38 分，全體考生的平均成績是 55 分，錄取分線比錄取者的平均成績少 6.3 分，問

(a) 未被錄取者的平均成績？

(b) 錄取分數線是多少分？

- ⑩醫生建議學童的書包重量不應超過學童體重的十分之一。小美重 45.8 kg，她的書包重 4.9 kg，她的書包重量比醫生建議的超出多少 kg？

- ⑪砌一個長方體的材料要用 56 元，包括膠粒和每枝 3 元的竹枝，問砌一個五角錐體需要多少錢？

* 答案請掃描 QR code。

* 版權歸 TOPick 及「知新教育」所有。

