

## 短答題

$$\begin{array}{r} 76 \\ \times 48 \\ \hline \end{array}$$

①

$$\begin{array}{r} 329 \\ \times 57 \\ \hline \end{array}$$

②

③請找出  $76 \div 12$  的商和餘數。

③商：\_\_\_\_\_，

餘數：\_\_\_\_\_

④請找出  $806 \div 27$  的商和餘數。

④商：\_\_\_\_\_，

餘數：\_\_\_\_\_

⑤請細閱以下內容並回答第 (i) 和 (ii) 題。

一個籃子裝有 8 個蘋果，它的重量是 940 克。在籃子裡多加了 12 個蘋果後，它的重量是 1 900 克。

(i) 如果每一個蘋果的重量都相同，請找出每個蘋果的重量。

(i) \_\_\_\_\_

(ii) 籃子的重量是多少？

(ii) \_\_\_\_\_

⑥請找出以下每組數字的最大公因數 (HCF) 及最小公倍數 (LCM)。

(i) 8, 12, 16

(i) HCF : \_\_\_\_\_

LCM : \_\_\_\_\_

(ii) 6, 7, 14

(ii) HCF : \_\_\_\_\_

LCM : \_\_\_\_\_

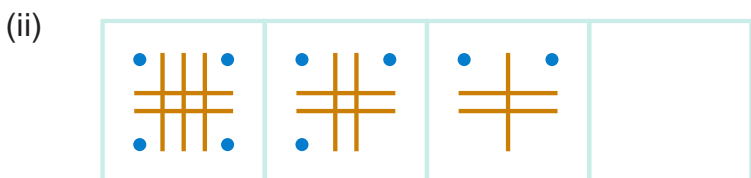
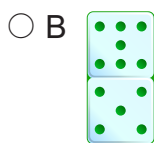
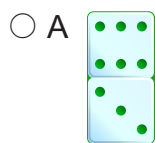
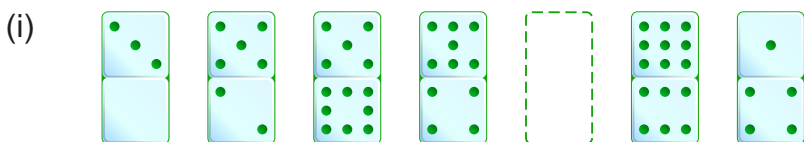
⑧ 小白、小珊、小恩和小克正在比較他們的身高。請細閱以下內容，並將他們從最高排到最矮。

- 小白比小恩矮
- 小珊比小恩矮
- 小白比小珊矮
- 小克比小白矮

最高

最矮

⑨ 請根據圖形的規律，回答第 (i) 和 (ii) 題，選出正確答案，並在○內填上顏色。



⑩ 請寫出正方形和三角形代表的數字。

$$\square \times \triangle = 36$$

$$\square \div \triangle = 4$$

